



CRECHE ESCOLA SEMENTINHA

AGENDA DE ATIVIDADES- ENSINO FUNDAMENTAL

PROFESSORAS: Alessandra, Eloísa, Gilma e Jesiclei.

Período: 25 a 29/01

DATA	SÉRIE: 3º ANO	ATIVIDADES
25/01 Segunda-feira	COMPONENTE CURRICULAR: Matemática História Língua Portuguesa Ciências	Situações envolvendo a Adição. SALA: Atividade Xerocopiada. CASA: Atividade Xerocopiada. ASSUNTO: Volta às aulas. SALA: Atividade Xerocopiada. CASA: Atividade Xerocopiada. ASSUNTO: Leitura e compreensão da música Era uma vez. SALA: Atividade Xerocopiada. CASA: Copiar no caderno uma música de sua preferência. ASSUNTO: Eu sou... E você, quem é? SALA: Boas-vindas e Dinâmica. CASA: Realizar um desenho sobre quem você é? (colocar todas suas características cabelo, olhos, o que gosta de vestir e fazer.)
26/01 Terça- feira	COMPONENTE CURRICULAR: Matemática Língua Portuguesa História	ASSUNTO: Sequência numérica. SALA: Escrita dos números no caderno de 1 à 100. CASA: Atividade Xerocopiada. ASSUNTO: Combinados de Sala de Aula e Ditado. SALA: Ditado de palavras. CASA: Atividade Xerocopiada. ASSUNTO: Família. SALA: Produzir um texto sobre sua família. CASA: Fazer um desenho sobre os membros de sua família.
27/01 Quarta-feira	COMPONENTE CURRICULAR: Matemática Português	ASSUNTO: Situações envolvendo a Subtração. SALA: Atividade no caderno. CASA: Atividade no caderno. ASSUNTO: Pote da disciplina / Produção textual.

	Geografia	<p>SALA: Atividade no caderno. CASA: Atividade Xerocopiada.</p> <p>ASSUNTO: Bairro. SALA: Atividade no caderno. CASA: Atividade no caderno.</p>
28/01 Quinta-feira	<p>COMPONENTE CURRICULAR: Matemática</p> <p>Língua Portuguesa</p>	<p>ASSUNTO: Situações envolvendo a Multiplicação. SALA: Atividade Xerocopiada. CASA: Atividade Xerocopiada.</p> <p>ASSUNTO: Dígrafos. SALA: Atividade no caderno. CASA: Atividade no caderno.</p>
29/01 Sexta-feira	<p>COMPONENTE CURRICULAR: Língua Portuguesa</p> <p>Matemática</p> <p>Ciências</p> <p>Geografia</p>	<p>ASSUNTO: Separação de Sílabas. SALA: Atividade no caderno. CASA: Atividade no caderno.</p> <p>ASSUNTO: Caça- Palavra matemático. SALA: Atividade Xerocopiada CASA: Atividade Xerocopiada</p> <p>ASSUNTO: Animais. SALA: Atividade Xerocopiada. CASA: Atividade Xerocopiada.</p> <p>ASSUNTO: Meios de Transporte. SALA: Leitura do texto. CASA: Pesquisar e colar no caderno imagens dos diversos meios de transporte ao longo do tempo.</p>

Observação:

- 1. Em todas as atividades realizadas, coloque a data. Isso facilitará as nossas correções.**

Creche Escola Sementinha

São Luís, _____ de _____ de 2021.

3º ano A e B – Ensino Fundamental I

Professoras: Alessandra, Eloísa, Gilma e Jesiclei.

Componente Curricular: Ciências

Nome:




ATIVIDADE DE CIÊNCIAS- CASA 29/01



ANIMAIS DOMÉSTICOS

PINTE OS ANIMAIS QUE CONVIVEM BEM COM O HOMEM.



AGORA ESCREVA OS NOMES DESTES ANIMAIS:



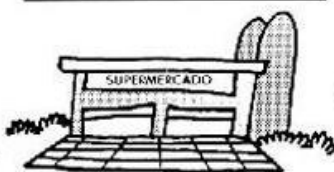



ATIVIDADE DE GEOGRAFIA/CASA 28/01

O que podemos encontrar em um bairro?



Escreva os nomes de acordo com os desenhos:



Os moradores devem participar do desenvolvimento do bairro, para melhorar a vida na comunidade.

Creche Escola Sementinha

São Luís, _____ de _____ de 2021.

3º ano A e B – Ensino Fundamental I

Professoras: Alessandra, Eloísa, Gilma e Jesiclei.

Componente Curricular: História

Nome:



ATIVIDADE DE HISTÓRIA/CASA 26/01

Pesquise e responda.

MÔNICA

MEU NOME É MÔNICA,
MAURÍCIO QUE ESCOLHEU.
QUEM SERÁ QUE ESCOLHEU O SEU?



1 - Qual seu nome completo?

2 - Quem o escolheu e por qual motivo?

3 - Que outros nomes você poderia ter tido de acordo com a sugestão de outras pessoas da família?

4- Se pudesse escolher um outro nome pra você qual escolheria?

5 - Quantas pessoas você conhece com o nome igual ao seu?

6 - Você tem um apelido? Qual?

7 - Já que seus pais escolheram seu nome agora você escolhe os deles. Capriche!

Creche Escola Sementinha

São Luís, _____ de _____ de 2021.

3º ano A e B – Ensino Fundamental I

Professoras: Alessandra, Eloísa, Gilma e Jesiclei.

Componente Curricular: Matemática

Nome:



ATIVIDADE DE MATEMÁTICA/CASA 25/01



Magali foi colher umas maçãs para o café da manhã. Ela colheu 9 maçãs, e comeu 2 no caminho. Com quantas ela chegou em casa?



Lucas tem uma coleção de 13 caminhões, mas resolver dar alguns para seu primo, de modo que ele ainda ficou com 8 caminhões. Quantos caminhões ele deu então para o primo dele?



Pedro sempre ajuda a mãe dele secando os pratos. Em cima da pia tinha 1 dúzia de pratos para ele secar, sendo que ele já secou 7. Quantos restam ainda para ele secar?

Creche Escola Sementinha

São Luís, _____ de _____ de 2021.

3º ano A e B – Ensino Fundamental I

Professoras: Alessandra, Eloísa, Gilma e Jesiclei.

Componente Curricular: Matemática

Nome:



ATIVIDADE DE MATEMÁTICA/CASA26/01

1- Complete a grade numérica:

1	2	3							10
11		13	14			17	18		20
	22	23		25		27	28		30
	32		34	35			38		
41					45				
51				55				59	
	62				66		68		70
71				75		77			
		83							90
	92		94	95			98		

2- Complete a grade de 10 em 10:

100	110	120		140		160	
	190		210	220		240	
260		280		300			330
	350		370		390		410

3- Complete a grade de 2 em 2 do 2 ao 100:

2	4	6			12		16		20
22				30					40
	44		48			54			
62		66		70					80
	84		88		92				100

Creche Escola Sementinha

São Luís, _____ de _____ de 2021.

3º ano A e B – Ensino Fundamental I

Professoras: Alessandra, Eloísa, Gilma e Jesiclei.

Componente Curricular: Matemática

Nome:



ATIVIDADE DE MATEMÁTICA/CASA 27/01

Resolva as subtrações abaixo:

$$\begin{array}{r} 42 \\ -21 \\ \hline \end{array} \quad \begin{array}{r} 50 \\ -38 \\ \hline \end{array} \quad \begin{array}{r} 78 \\ -14 \\ \hline \end{array} \quad \begin{array}{r} 67 \\ -8 \\ \hline \end{array} \quad \begin{array}{r} 85 \\ -30 \\ \hline \end{array}$$

$$\begin{array}{r} 95 \\ -13 \\ \hline \end{array} \quad \begin{array}{r} 72 \\ -3 \\ \hline \end{array} \quad \begin{array}{r} 61 \\ -16 \\ \hline \end{array} \quad \begin{array}{r} 40 \\ -1 \\ \hline \end{array} \quad \begin{array}{r} 86 \\ -19 \\ \hline \end{array}$$

$$\begin{array}{r} 21 \\ -3 \\ \hline \end{array} \quad \begin{array}{r} 45 \\ -28 \\ \hline \end{array} \quad \begin{array}{r} 57 \\ -27 \\ \hline \end{array} \quad \begin{array}{r} 64 \\ -26 \\ \hline \end{array} \quad \begin{array}{r} 79 \\ -51 \\ \hline \end{array}$$

$$\begin{array}{r} 66 \\ -37 \\ \hline \end{array} \quad \begin{array}{r} 43 \\ -4 \\ \hline \end{array} \quad \begin{array}{r} 56 \\ -50 \\ \hline \end{array} \quad \begin{array}{r} 85 \\ -85 \\ \hline \end{array} \quad \begin{array}{r} 50 \\ -24 \\ \hline \end{array}$$

$$\begin{array}{r} 82 \\ -11 \\ \hline \end{array} \quad \begin{array}{r} 31 \\ -14 \\ \hline \end{array} \quad \begin{array}{r} 78 \\ -70 \\ \hline \end{array} \quad \begin{array}{r} 44 \\ -37 \\ \hline \end{array} \quad \begin{array}{r} 52 \\ -7 \\ \hline \end{array}$$

Creche Escola Sementinha

São Luís, _____ de _____ de 2021.

3º ano A e B – Ensino Fundamental I

Professoras: Alessandra, Eloísa, Gilma e Jesiclei.

Componente Curricular: Matemática

Nome:



ATIVIDADE DE MATEMÁTICA/CASA 28/01

Resolva as multiplicações abaixo:

A
$$\begin{array}{r} 16 \\ \times 4 \\ \hline \end{array}$$

B
$$\begin{array}{r} 24 \\ \times 3 \\ \hline \end{array}$$

C
$$\begin{array}{r} 78 \\ \times 2 \\ \hline \end{array}$$

D
$$\begin{array}{r} 49 \\ \times 2 \\ \hline \end{array}$$

E
$$\begin{array}{r} 57 \\ \times 3 \\ \hline \end{array}$$

F
$$\begin{array}{r} 96 \\ \times 6 \\ \hline \end{array}$$

G
$$\begin{array}{r} 68 \\ \times 2 \\ \hline \end{array}$$

H
$$\begin{array}{r} 393 \\ \times 5 \\ \hline \end{array}$$

I
$$\begin{array}{r} 163 \\ \times 4 \\ \hline \end{array}$$

J
$$\begin{array}{r} 325 \\ \times 3 \\ \hline \end{array}$$

K
$$\begin{array}{r} 269 \\ \times 3 \\ \hline \end{array}$$

L
$$\begin{array}{r} 257 \\ \times 7 \\ \hline \end{array}$$

Creche Escola Sementinha

São Luís, _____ de _____ de 2021.

3º ano A e B – Ensino Fundamental I

Professoras: Alessandra, Eloísa, Gilma e Jesiclei.

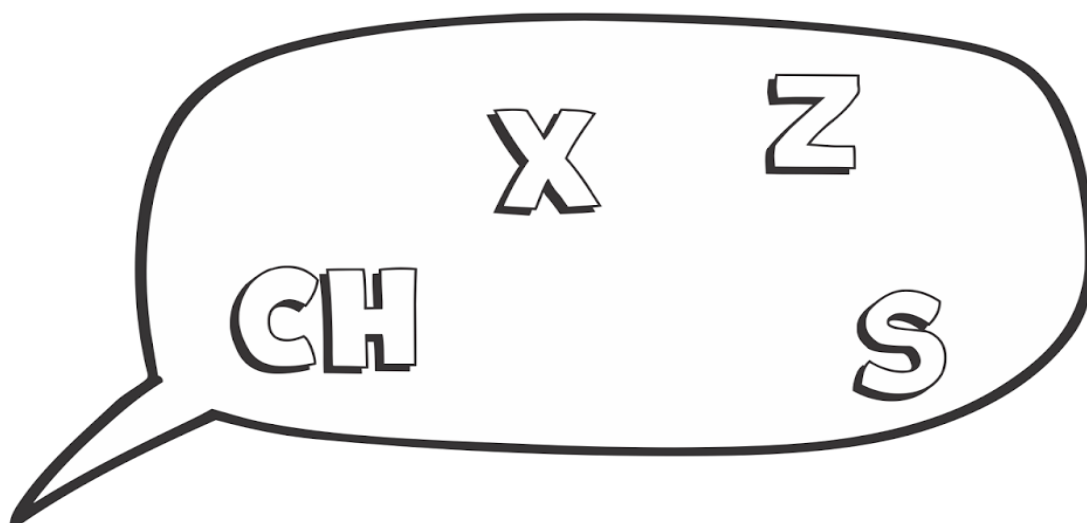
Componente Curricular: Língua Portuguesa

Nome:



ATIVIDADE DE LÍNGUA PORTUGUESA/CASA 26/01

Use as letras e dígrafos abaixo para completar as palavras da tabela.



T A B E L A	_____ave	a_____eite
	ca_____a	co_____ilo
	pei_____e	bu_____ina
	vi_____ita	pró_____imo
	pau_____a	trou_____e
	va_____io	carinho_____o
	_____umbo	vi_____ta
	_____uva	bo_____e_____a
	abaca_____i	amei_____a

Creche Escola Sementinha

São Luís, _____ de _____ de 2021.

3º ano A e B – Ensino Fundamental I

Professoras: Alessandra, Eloísa, Gilma e Jesiclei.

Componente Curricular: Língua Portuguesa

Nome: _____



ATIVIDADE DE LÍNGUA PORTUGUESA/SALA 25/01

Era Uma Vez

Sandy & Júnior e Toquinho

Era uma vez
Um lugarzinho no meio do nada
Com sabor de chocolate
E cheiro de terra molhada

Era uma vez
A riqueza contra a simplicidade
Uma mostrando pra outra
Quem dava mais felicidade

Pra gente ser feliz
Tem que cultivar as nossas amizades
Os amigos de verdade
Pra gente ser feliz
Tem que mergulhar na própria fantasia
Na nossa liberdade

Uma história de amor
De aventura e de magia
Só tem a ver
Quem já foi criança um dia

Uma história de amor
De aventura e de magia
Só tem a ver
Quem já foi criança um dia



LEIA COM ATENÇÃO A MÚSICA ERA UMA VEZ. DEPOIS RESPONDA AS QUESTÕES ABAIXO.

1ª) Qual o título dessa música? _____

2ª) Quem canta essa música? _____

3ª) Onde era o lugarzinho da música? _____

4ª) Que sabor e que cheiro tinha o lugarzinho? _____

5ª) O que a riqueza e a simplicidade mostravam uma para a outra?

6ª) Segundo o texto, o que a gente tem que fazer para ser feliz? _____

7ª) O que você acha que a gente precisa fazer para ser feliz?

Creche Escola Sementinha

São Luís, _____ de _____ de 2021.

3º ano A e B – Ensino Fundamental I

Professoras: Alessandra, Eloísa, Gilma e Jesiclei.


Componente Curricular: Língua Portuguesa

Nome: _____



ATIVIDADE DE CIÊNCIAS – SALA 29/01

PROCURE, NO CAÇA- PALAVRAS, O NOME DE ALGUNS ANIMAIS NOCIVOS E DEPOIS COPIE- AS À FRENTE DAS SUAS CARACTERÍSTICAS.



- 1- Inseto que destrói as plantações: _____
- 2- Mamífero que transmite a leptospirose pela urina: _____
- 3- Réptil que possui uma picada venenosa: _____
- 4- Inseto que transmite a dengue: _____
- 5- Inseto que transmite a doença de Chagas: _____
- 6- Aracnídeo que tem um ferrão na cauda, que injeta veneno: _____



Você sabia que uma grama do veneno da cobra Naja pode matar muitas pessoas?

Creche Escola Sementinha

São Luís, _____ de _____ de 2021.

3º ano A e B – Ensino Fundamental I

Professoras: Alessandra, Eloísa, Gilma e Jesiclei.

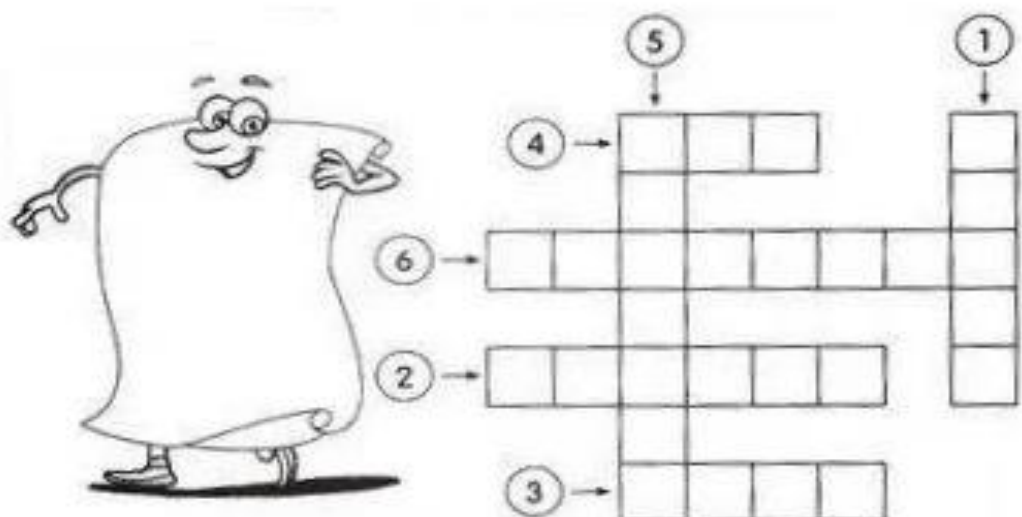
Componente Curricular: Matemática

Nome:



ATIVIDADE DE MATEMÁTICA -SALA 29/01

RESOLVA AS ADIÇÕES ABAIXO E DEPOIS ESCREVA POR EXTENSO O RESULTADO NA CRUZADINHA.



- ① $7 + 6 = \square$
- ② $7 + 8 = \square$
- ③ $7 + 4 = \square$
- ④ $7 + 3 = \square$
- ⑤ $12 + 6 = \square$
- ⑥ $10 + 9 = \square$

