

<p>04/02</p>	<p>Língua Portuguesa</p> <p>História</p> <p>Matemática</p> <p>Ciências</p>	<p>PRODUÇÃO TEXTUAL</p> <p>Atividade de sala: atividade no caderno.</p> <p>ALGUNS TIPOS DE RELÓGIOS</p> <p>Atividade de sala: livro página: 13.</p> <p>Para casa: Pesquise, observe e cole no caderno de desenho imagens de relógios antigos.</p> <p>LOCALIZAÇÃO NA MALHA QUADRICULADA</p> <p>Atividade de sala: atividade no livro página: 20.</p> <p>Para casa: Fazer páginas: 18 e 19.</p> <p>OS SERES VIVOS</p> <p>Atividade de sala: livro páginas: 10 e 11.</p> <p>Para casa: livro página 13.</p>
<p>05/02</p>	<p>Língua Portuguesa</p>	<p>TIPOS DE GRAFIAS</p> <p>Atividade de sala: atividade no livro página: 18.</p> <p>Para casa: fazer atividade xerocopiada.</p>

	Matemática	MOVIMENTAÇÃO: DIRECIONANDO CAMINHOS Atividade de sala: atividade no livro, página: 21.
	Geografia	O BAIRRO ONDE VOCÊ MORA Atividade de sala: atividade no livro, página: 13. Para casa: Leitura das páginas 14 e 15.
	Ciências	EU SOU UM SER VIVO Atividade de sala: livro página: 14. Para casa: livro página: 15.

Observação:

1. Em todas as atividades realizadas, coloque a data. Isso facilitará as nossas correções.
2. Para os alunos que assistirão as aulas online, nessa semana, imprimam as Sondagens de Língua Portuguesa e Matemática (em anexo).



Creche Escola Sementinha

São Luís, _____ de _____ de 2021

2º Ano – Ensino Fundamental I

Professoras: Milena, Nelceline e Vanessa

Componente Curricular: Língua Portuguesa

Nome: _____

SONDAGEM DE LÍNGUA PORTUGUESA

1º) *Escreva três palavras que você conhece.*

2º) *Faça a leitura e escreva uma frase para a imagem abaixo:*



3º) Ligue o desenho com a sua rima.



PATA

FOGUETE

JABUTI

4º) Responda as perguntas.

Quantas letras tem a palavra

hipopótamo? _____

Quantas vogais? _____

Quantas consoantes? _____

Quantas sílabas? _____

HIPOPOTÁMO



5º) AUTODITADO





Creche Escola Sementinha

São Luís, _____ de _____ de 2021

2º Ano – Ensino Fundamental I

Professoras: Milena, Nelceline e Vanessa

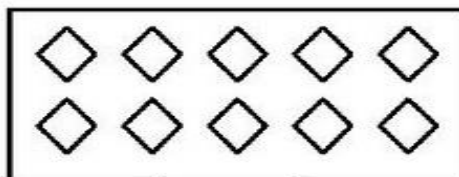

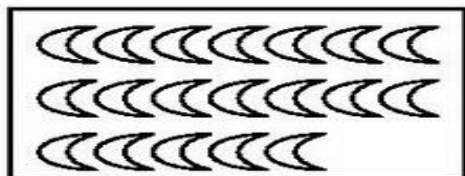
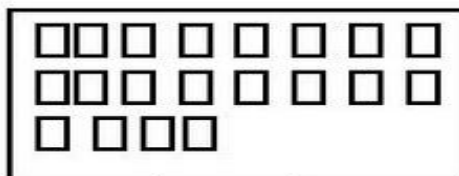

Componente Curricular: Matemática

Nome: _____


SONDAGEM DE MATEMÁTICA

1ª) ESCREVA OS NÚMEROS DE 1 A 50.

2ª) ESCREVA A QUANTIDADE CORRESPONDENTE DE ELEMENTOS EM CADA CONJUNTO.



3ª) OBSERVE AS IMAGENS E DEPOIS PINTE UMA DEZENA DE ELEMENTOS.



4ª) COLOQUE O ANTECESSOR E O SUCESSOR DOS NÚMEROS ABAIXO.

	24	
	12	
	40	

	35	
	19	
	30	

5ª) RESOLVA AS ADIÇÕES:

$9 + 7 = \underline{\quad\quad}$

$6 + 5 = \underline{\quad\quad}$

$8 + 9 = \underline{\quad\quad}$

$5 + 7 = \underline{\quad\quad}$

$7 + 6 = \underline{\quad\quad}$

$9 + 4 = \underline{\quad\quad}$

$5 + 8 = \underline{\quad\quad}$

$6 + 4 = \underline{\quad\quad}$

6ª) RESOLVA AS SUBTRAÇÕES:

$9 - 5 = \underline{\quad\quad}$

$6 - 6 = \underline{\quad\quad}$

$7 - 2 = \underline{\quad\quad}$

$8 - 7 = \underline{\quad\quad}$

$5 - 1 = \underline{\quad\quad}$

$10 - 3 = \underline{\quad\quad}$

$6 - 5 = \underline{\quad\quad}$

$10 - 1 = \underline{\quad\quad}$

CRECHE ESCOLA SEMENTINHA

SÃO LUÍS, _____ DE _____ DE 2021.

2º ano - ENSINO FUNDAMENTAL I

PROFESSORAS: Milena, Nelceline e Vanessa

NOME: _____



ATIVIDADE DE LÍNGUA PORTUGUESA

1ª) OBSERVE AS CENAS E ESCREVA DENTRO DOS BALÕES O QUE VOCÊ IMAGINA QUE OS PERSONAGENS ABAIXO ESTÃO FALANDO OU PENSANDO.

