

CRECHE ESCOLA SEMENTINHA



AGENDA DE ATIVIDADES- ENSINO FUNDAMENTAL  
PROFESSORAS: MILENA, NELCELINE E VANESSA

PERÍODO: 15 a 19/02 /2021

DATA	SÉRIE: 2º ano	ATIVIDADES
15/02 Segunda-feira	<p><b>Componente curricular:</b> Matemática</p> <p>Língua Portuguesa</p> <p>História</p>	<p><b>Assunto:</b> Localização e movimentação.</p> <p><b>SALA:</b> fazer atividade no livro páginas 30 e 31. <b>CASA:</b> fazer atividade no livro página 31 (item quebra-cuca).</p> <p><b>Assunto:</b> Parlendas.</p> <p><b>SALA:</b> fazer atividade no caderno. <b>CASA:</b> atividade xerocopiada.</p> <p><b>Assunto:</b> Aspectos históricos e culturais do carnaval.</p> <p><b>SALA:</b> fazer atividade xerocopiada. <b>CASA:</b> leitura de texto no caderno de história.</p>
16 /02 Terça-feira	<p><b>Componente curricular:</b> Língua Portuguesa</p> <p>Matemática</p> <p>Geografia</p>	<p><b>Assunto:</b> Alfabeto.</p> <p><b>SALA:</b> fazer atividade no livro página 26. <b>CASA:</b> fazer leitura do alfabeto cursivo no livro de Língua portuguesa.</p> <p><b>Assunto:</b> Caminhos orientados (revisão).</p> <p><b>SALA:</b> fazer atividade xerocopiada. <b>CASA:</b> atividade xerocopiada.</p> <p><b>Assunto:</b> Mudanças e permanências. <b>SALA:</b> fazer atividade no livro páginas 20 e 21. <b>CASA:</b> leitura no livro página 21 (itens 4 e 5).</p>

<p>17/02 Quarta-feira</p>	<p><b>Componente curricular:</b> Língua Portuguesa</p> <p>Matemática</p>	<p><b>Assunto:</b> Alfabeto: letras em ordem.</p> <p><b>SALA:</b> fazer atividade no livro página 27. <b>CASA:</b> fazer atividade xerocopiada.</p> <p><b>Assunto:</b> Localização e movimentação (revisão).</p> <p><b>SALA:</b> fazer atividade xerocopiada. <b>CASA:</b> atividade xerocopiada.</p>
<p>18 /02 Quinta-feira</p>	<p><b>Componente curricular:</b> Língua Portuguesa</p> <p>História</p> <p>Matemática</p> <p>Ciências</p>	<p><b>Assunto:</b> Alfabeto: letras em ordem.</p> <p><b>SALA:</b> fazer atividade no livro páginas 28 e 29. <b>CASA:</b> livro página 29 (leitura das palavras).</p> <p><b>Assunto:</b> Rotina escolar.</p> <p><b>SALA:</b> fazer atividade no livro página 17. <b>CASA:</b> fazer atividade no livro página 17 (item 5).</p> <p><b>Assunto:</b> Números.</p> <p><b>SALA:</b> fazer atividade no livro páginas 32 e 33 (no caderno). <b>CASA:</b> Os números estão por toda parte. Assim, pesquise e cole, no caderno de desenho, imagens com números representando situações de quantidade, organização e valor.</p> <p><b>Assunto:</b> Seres vivos.</p> <p><b>SALA:</b> Fazer atividade no livro página 19. <b>CASA:</b> Leia a parlenda da página 15 e faça a ilustração da mesma no caderno de desenho.</p>

19/02 Sexta-feira	<b>Componente curricular:</b> Língua Portuguesa	<b>Assunto:</b> Letras F e V.  <b>SALA:</b> Fazer atividade no livro páginas 30 e 31. <b>CASA:</b> Pesquisar, em revistas e em livros, palavras com as letras F e V e colar no caderno.
	Matemática	<b>Assunto:</b> Dezenas e centenas.  <b>SALA:</b> Fazer atividade no livro página 34. <b>CASA:</b> Fazer atividade no livro página 34 (item 2).
	Geografia	<b>Assunto:</b> Localização, orientação e representação espacial.  <b>SALA:</b> Fazer atividade no livro página 22. <b>CASA:</b> Fazer atividade no livro página 23.
	Ciências	<b>Assunto:</b> Seres vivos (revisão).  <b>SALA:</b> Fazer atividade no caderno. <b>CASA:</b> Fazer atividade xerocopiada.

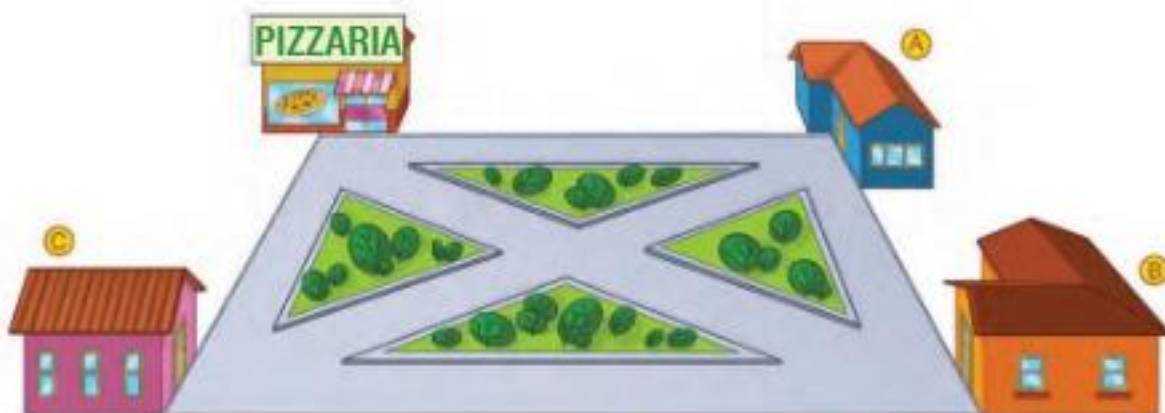
**Observações:**

1. Em todas as atividades realizadas, coloque a data. Isso facilitará as nossas correções.
2. Para os alunos que assistirão as aulas online, imprimam as atividades (em anexo).

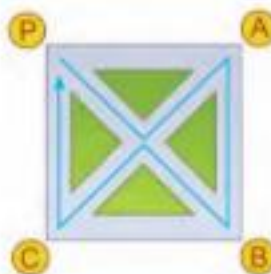


### ATIVIDADE DE MATEMÁTICA

1ª) Observe a imagem e responda:



Esse entregador pode fazer muitos caminhos diferentes. Veja um deles:



- Com um lápis, trace três desses caminhos. Atenção: não vale percorrer duas vezes o mesmo trecho de rua.



CRECHE ESCOLA SEMENTINHA

SÃO LUÍS, 16 DE FEVEREIRO DE 2021. (CASA)

2º ano - ENSINO FUNDAMENTAL I

PROFESSORAS: MILENA, NELCELINE E VANESSA

NOME: \_\_\_\_\_

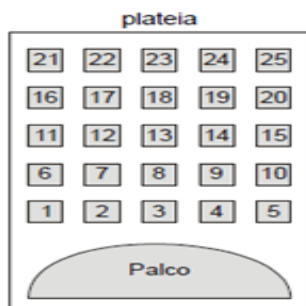


### ATIVIDADE DE MATEMÁTICA

1ª) Observe e trace o caminho da pata na malha quadriculada.

Caminho	
4	→
2	↓
3	→

2ª) A figura abaixo mostra um teatro onde as cadeiras da plateia são numeradas de 1 a 25.



Mara recebeu um ingresso de presente que dizia o seguinte:

Sua cadeira está localizada exatamente no centro da plateia.

Qual é a cadeira de Mara?

- (A) 12
- (B) 13
- (C) 22
- (D) 23

CRECHE ESCOLA SEMENTINHA

SÃO LUÍS, 17 DE FEVEREIRO DE 2021. (SALA)

2º ano - ENSINO FUNDAMENTAL I

PROFESSORAS: MILENA, NELCELINE E VANESSA

NOME: \_\_\_\_\_



### ATIVIDADE DE MATEMÁTICA

#### COMPLETE A CENA DE ACORDO COM AS PISTAS:

- DESENHE UM SOL DO LADO DIREITO.
- DESENHE UMA ÁRVORE DO LADO ESQUERDO DA CASA.
- DESENHE MONTANHAS ATRÁS DA CASA.
- DESENHE UMA CRIANÇA EM FRENTE A CASA.
- DESENHE UM JARDIM AO LADO DIREITO DA CASA.



CRECHE ESCOLA SEMENTINHA

SÃO LUÍS, 17 DE FEVEREIRO DE 2021. (CASA)

2º ano - ENSINO FUNDAMENTAL I

PROFESSORAS: MILENA, NELCELINE E VANESSA

NOME: \_\_\_\_\_



### ATIVIDADE DE MATEMÁTICA

1ª) Ana fez o desenho de algumas ruas de seu bairro, próximas à sua casa. Localizou sua casa e marcou-a com seu nome. Localizou também a casa de quatro amigas e marcou-as com o nome de cada uma.

Veja abaixo o que ela fez.



- A casa que fica mais próxima à casa de Ana é a de sua amiga:
  - a) ( ) Carla
  - b) ( ) Laura
  - c) ( ) Lúcia
  - d) ( ) Maria

CRECHE ESCOLA SEMENTINHA

SÃO LUÍS, 15 DE FEVEREIRO DE 2021. (CASA)

2º ano - ENSINO FUNDAMENTAL I

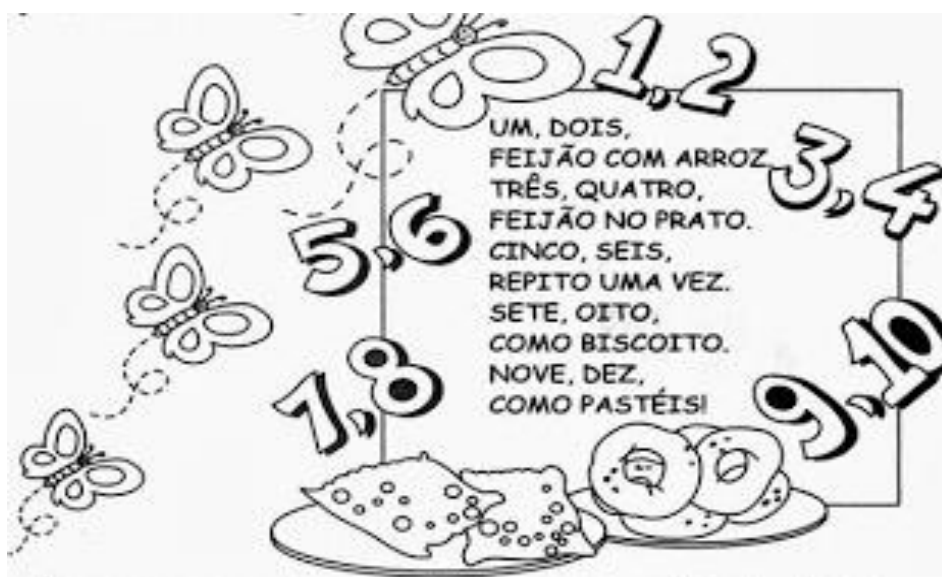
PROFESSORAS: MILENA, NELCELINE E VANESSA

NOME: \_\_\_\_\_



### ATIVIDADE DE LÍNGUA PORTUGUESA

1ª) Leia em voz alta a parlenda e responda as questões abaixo.



a) Retire da parlenda uma palavra para cada letra abaixo.

A	<input type="text"/>	O	<input type="text"/>
B	<input type="text"/>	P	<input type="text"/>
C	<input type="text"/>	R	<input type="text"/>
D	<input type="text"/>	S	<input type="text"/>
F	<input type="text"/>	T	<input type="text"/>
N	<input type="text"/>	V	<input type="text"/>

b) Pinte as consoantes da parlenda de vermelho.

c) Pinte as vogais da parlenda de amarelo.



CRECHE ESCOLA SEMENTINHA

SÃO LUÍS, 17 DE FEVEREIR DE 2021. (CASA)

2º ano - ENSINO FUNDAMENTAL I

PROFESSORAS: MILENA, NELCELINE E VANESSA

NOME: \_\_\_\_\_




### ATIVIDADE DE LÍNGUA PORTUGUESA

1º) Complete o tabuleiro com as letras faltosas.

	A					D					
											M
				P							
		U									

2º) Observe os desenhos abaixo e escreva os seus nomes nos retângulos, em ordem alfabética.




**CRECHE ESCOLA SEMENTINHA**

**SÃO LUÍS, 15 DE FEVEREIRO DE 2021. (SALA)**

**2º ANO - ENSINO FUNDAMENTAL I**

**PROFESSORAS: MILENA, NELCELINE E VANESSA**

**NOME: \_\_\_\_\_**



### **ATIVIDADE DE HISTÓRIA**

#### **Leia o texto.**

O carnaval é uma festa popular que surgiu ainda na antiguidade e foi incluída no calendário; depois de muitos séculos, ainda é comemorado no mundo todo.

O carnaval foi trazido para o Brasil pelos portugueses. Em cada região há formas e ritmos diferentes de curtir essa festa.

No Sudeste, predomina o samba com os desfiles das escolas de samba. No Nordeste, o frevo, axé, maracatu, afroxé, forró, entre outros.

As pessoas se fantasiam de personagens como: a Colombina, Pierrô e o rei Momo. Elas decoram seus carros e, em grupos, desfilam pelas ruas da cidade com ajuda das marchinhas carnavalescas.



1º) Leia as palavras abaixo e circule-as no texto.

**CARNAVAL – BRASIL – PORTUGUESES – FESTA – SAMBA – MARACATU**

**FORRÓ – REI MOMO - MARCHINHAS**

2º) Crie um título para o texto.

\_\_\_\_\_

CRECHE ESCOLA SEMENTINHA

SÃO LUÍS, 19 DE FEVEREIRO DE 2021. (CASA)

2º ANO - ENSINO FUNDAMENTAL I

PROFESSORAS: MILENA, NELCELINE E VANESSA

NOME: \_\_\_\_\_



### ATIVIDADE DE CIÊNCIAS

✍️ PROCURE NO QUADRO ABAIXO NOMES DE SERES VIVOS E DOS SERES NÃO-VIVOS CONFORME OS DESENHOS.



G	A	T	O	E	P	F	G	H
I	J	C	A	N	E	T	A	K
L	M	N	O	P	D	Q	R	S
C	A	C	H	O	R	R	O	U
B	A	L	Ã	O	A	V	X	Y
W	B	O	N	E	C	A	Z	A
C	D	S	A	P	O	E	F	G
H	I	M	E	N	I	N	A	J
K	L	M	N	O	P	Q	R	S

(menina - gato - caneta - pedra - cachorro - balão - boneca - sapo)



✍️ ESCREVA OS NOMES DOS SERES VIVOS: \_\_\_\_\_

✍️ ESCREVA OS NOMES DOS SERES NÃO-VIVOS: \_\_\_\_\_