



CRECHE ESCOLA SEMENTINHA
AGENDA DE ATIVIDADES- ENSINO FUNDAMENTAL
PROFESSORAS: Nádia Rosa e Raimunda Nunes

PERÍODO: 15 a 19/03 /2021

DATA	SÉRIE: 1º ano	ATIVIDADES
15/03 Segunda-feira	Componente curricular: Matemática Ciências Língua Portuguesa	Assunto: Vamos contar – Unidade 02. Comparar e ordenar: Números ordinais como indicadores de ordem. SALA: Realizar atividade página 51. CASA: Executar atividade página 52. Assunto: Conhecendo o seu corpo. O corpo percebe o ambiente. SALA: Realizar atividade da página 32. CASA: Releitura da atividade proposta do livro, pág. 32, observando o que cada parte do corpo representa. Assunto: Reconhecimento de um texto literário, reconhecimento de rimas. SALA: Explorar as rimas, no cartaz, realizando atividade de pareamento das palavras. CASA: Livro página 43(releitura).
16/03 Terça-feira	Componente curricular: Matemática Língua Portuguesa	Assunto: Comparar e ordenar: Números ordinais como indicadores de ordem. SALA: Atividade xerocopiada. CASA: Executar atividade página 53. Assunto: Caderno do leitor – Texto - Conversa sem saída (leitura). SALA: Caderno do leitor página 12. CASA: Ilustrar a história no caderno de desenho.

<p>17/03 Quarta-feira</p>	<p>Componente curricular: Matemática</p> <p>História</p> <p>Língua Portuguesa</p>	<p>Assunto: Leitura de dados registrados em tabelas - Comparação dos números naturais. SALA: Realizar atividade página 54. CASA: Executar atividade página 55.</p> <p>Assunto: Identificar os documentos pessoais e sua importância. SALA: Atividade xerocopiada. CASA: Atividade xerocopiada.</p> <p>Assunto: Continuidade da aula anterior. Conversa sem saída (releitura). SALA: Releitura página 12. CASA: Realizar atividade página 12.</p>
<p>18/03 Quinta-feira</p>	<p>Componente curricular: Língua Portuguesa</p> <p>História</p> <p>Geografia</p>	<p>Assunto: Parlenda: Um, dois, feijão com arroz. SALA: Fazer, no caderno de desenho, a releitura da parlenda. CASA: Realizar atividade do livro página 44.</p> <p>Assunto: • Documentos pessoais • Função SALA: Atividade xerocopiada. CASA: Atividade xerocopiada.</p> <p>Assunto: Brincar é comum às crianças. SALA: Realizar a leitura do texto Faz de conta do livro e responder a atividade a atividade proposta das páginas 40 CASA: Livro responder página 41.</p>

	Matemática	<p>Assunto: Composição e decomposição de números naturais – sistema monetário. SALA: Atividade xerocopiada. CASA: Executar atividade página 56.</p>
19/03 Sexta-feira	<p>Componente curricular: Língua Portuguesa</p> <p>Ciências</p> <p>Matemática</p>	<p>Assunto: Reconhecimento da importância da escrita e da leitura no seu dia a dia. SALA: Livro página 46. CASA: Livro página 47.</p> <p>Assunto: Cuidados com o Corpo. SALA: Responder a atividade do livro da página 34. CASA: Desenhar 3(três) hábitos de cuidados com o corpo, no caderno de desenho.</p> <p>Assunto: Composição e decomposição de números naturais. SALA: Atividade xerocopiada. CASA: Executar atividade na página 57.</p>

Observações:

1. Em todas as atividades realizadas, coloque a data. Isso facilitará as nossas correções.
2. Imprimir as atividades (em anexo).

Creche Escola Sementinha

São Luís, _____ de _____ de 2021.

1º ANO – Ensino Fundamental I

Professoras: Nádia Rosa e Raimunda Nunes

Componente Curricular: MATEMÁTICA



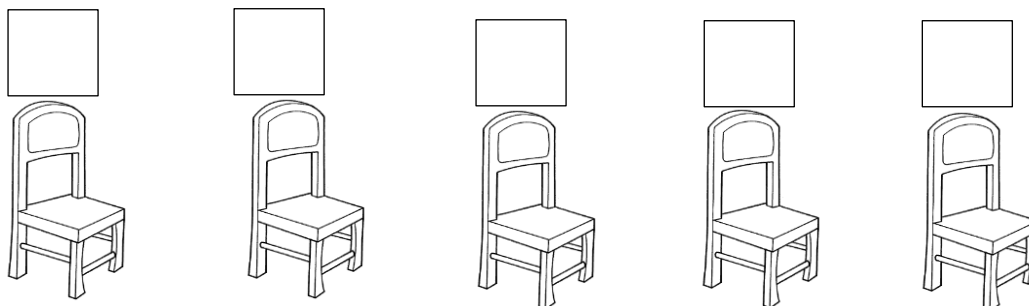

Nome: _____

ATIVIDADE (SALA) - DIA 16/03

1 - ESCREVA POR EXTENSO OS NÚMEROS ORDINAIS:

1º		6º	
2º		7º	
3º		8º	
4º		9º	
5º		10º	

2 – CONTINUE ENUMERANDO AS CADEIRAS DA FILA COM OS NÚMEROS ORDINAIS:





Nome: _____

ATIVIDADE (CASA) - DIA 16/03

NÚMEROS ORDINAIS

1 – PARA INDICAR ORDEM, POSIÇÃO OU LUGAR, UTILIZAMOS OS NÚMEROS ORDINAIS. OS NÚMEROS ORDINAIS ATÉ O 10º SÃO:


1º PRIMEIRO
2º SEGUNDO
3º TERCEIRO
4º QUARTO
5º QUINTO



6º SEXTO
7º SÉTIMO
8º OITAVO
9º NONO
10º DÉCIMO



2 – INDIQUE COM O NUMERAL ORDINAL A POSIÇÃO QUE CADA DESENHO SE ENCONTRA NA SEQUÊNCIA.



3 – AGORA COMPLETE:

- A) A ESTRELA É O _____ ELEMENTO DA SEQUÊNCIA.
- B) O PINGUIM É O _____ ELEMENTO DA SEQUÊNCIA.
- C) A _____ É O 4º ELEMENTO DA SEQUÊNCIA.
- D) O 5º ELEMENTO DA SEQUÊNCIA É A _____.
- E) A OVELHA É O _____ ELEMENTO DA SEQUÊNCIA.

Creche Escola Sementinha

São Luís, _____ de _____ de 2021.

1º ANO – Ensino Fundamental I

Professoras: Nádia Rosa e Raimunda Nunes

Componente Curricular: HISTÓRIA



Nome: _____

ATIVIDADE (SALA) - DIA 17/03

**MEU
AUTORRETRATO**

TENHO MUITO SONHOS!


QUANDO CRESCER, QUERO SER: _____

MINHA COMIDA FAVORITA É: _____

O BRINQUEDO QUE MAIS GOSTO: _____

MEU DESENHO PREDILETO: _____

ESTE SOU EU!



Creche Escola Sementinha

São Luís, _____ de _____ de 2021.

1º ANO – Ensino Fundamental I

Professoras: Nádia Rosa e Raimunda Nunes

Componente Curricular: HISTÓRIA



Nome: _____

ATIVIDADE (CASA) - DIA 17/03

1 – PESQUISE, EM SEU REGISTRO DE NASCIMENTO, AS INFORMAÇÕES SOLICITADAS.

CERTIDÃO DE NASCIMENTO

NOME COMPLETO:

DATA E LOCAL DE NASCIMENTO:

NOME COMPLETO DOS PAIS:

NOME COMPLETO DOS AVÓS PATERNOS:

NOME COMPLETO DOS AVÓS MATERNOS:

Creche Escola Sementinha

São Luís, _____ de _____ de 2021.

1º ANO – Ensino Fundamental I

Professoras: Nádia Rosa e Raimunda Nunes

Componente Curricular: HISTÓRIA



Nome: _____

ATIVIDADE (SALA) - DIA 18/03

1 – OBSERVE OS DOCUMENTOS ABAIXO E CIRCULE OS QUE VOCÊ POSSUI.



CARTEIRA DE IDENTIDADE



CADERNETA DE VACINAÇÃO



TÍTULO DE ELEITOR



CARTEIRA DE HABILITAÇÃO



CERTIDÃO DE NASCIMENTO



CPF

Creche Escola Sementinha

São Luís, _____ de _____ de 2021.

1º ANO – Ensino Fundamental I

Professoras: Nádia Rosa e Raimunda Nunes

Componente Curricular: HISTÓRIA



Nome: _____

ATIVIDADE (CASA) - DIA 18/03

A CARTEIRA DE IDENTIDADE É UM DOCUMENTO QUE CONTÉM SEUS DADOS PESSOAIS, SEU RETRATO E SUAS DIGITAIS.

1 – OBSERVE O DOCUMENTO ABAIXO E PREENCHA COM SEUS DADOS (COM AJUDA DE SEUS PAIS).

Carteira de Identidade

Polegar Direito	Retrato
_____ <i>Assinatura do Portador</i>	

Número do Registro	_____
Nome	_____
Filiação	_____
Naturalidade	_____
Data	_____
Válida em todo o território nacional	_____

Creche Escola Sementinha

São Luís, _____ de _____ de 2021.

1º ANO – Ensino Fundamental I

Professoras: Nádia Rosa e Raimunda Nunes

Componente Curricular: MATEMÁTICA



Nome: _____

ATIVIDADE (SALA) - DIA 18/03

SISTEMA MONETÁRIO

1 - LIGUE CADA NOTA DE DINHEIRO AO SEU VALOR CORRESPONDENTE E ESCREVA A QUANTIDADE POR EXTENSO COMO NO MODELO.



R\$ 5,00

Cinco reais

R\$ 10,00

R\$ 2,00

R\$ 20,00

R\$ 50,00

R\$ 100,00

Creche Escola Sementinha

São Luís, _____ de _____ de 2021.

1º ANO – Ensino Fundamental I

Professoras: Nádia Rosa e Raimunda Nunes

Componente Curricular: MATEMÁTICA



Nome: _____

ATIVIDADE (SALA) - DIA 19/03

1 - COMPLETE A SEQUÊNCIA NUMÉRICA DE 2 EM 2.

2	4			
		16		
				30

2 – AGORA COMPLETE A SEQUÊNCIA NUMÉRICA DE 5 EM 5.

5	10			
				50
55				