

CRECHE ESCOLA SEMENTINHA



AGENDA DE ATIVIDADES- ENSINO FUNDAMENTAL
PROFESSORAS: MILENA, NELCELINE E VANESSA

PERÍODO: 15 a 19/03/2021

DATA	SÉRIE: 2º ano	ATIVIDADES
15/03 Segunda-feira	<p>Componente curricular:</p> <p>Matemática</p> <p>Língua Portuguesa</p> <p>História</p>	<p>Assunto: Maior que menor que. SALA: Fazer atividade no livro páginas 56 e 57. CASA: Fazer atividade no livro página 57 (item 3).</p> <p>Assunto: Gênero textual: Carta enigmática. SALA: Fazer atividade no livro páginas 46, 47, 48 e 49. CASA: Pesquise um texto enigmático para a próxima aula (16/03).</p> <p>Assunto: Medir o tempo com o relógio. SALA: Fazer atividade no livro páginas 28 e 29. CASA: Leitura, em voz alta, no livro páginas 28 e 29.</p>
16/03 Terça-feira	<p>Componente curricular:</p> <p>Língua Portuguesa</p> <p>Matemática</p> <p>Geografia</p>	<p>Assunto: Carta enigmática. SALA: Fazer atividade no caderno. CASA: Escreva uma cartinha enigmática para ser lida na aula do dia 17/03.</p> <p>Assunto: Maior que menor que. SALA: Fazer atividade xerocopiada. CASA: Fazer atividade xerocopiada.</p> <p>Assunto: Localização orientação e representação espacial. SALA: Fazer atividade no livro página 36. CASA: Fazer atividade no livro página 37.</p>

<p>17/03 Quarta-feira</p>	<p>Componente curricular: Língua Portuguesa</p> <p>Matemática</p>	<p>Assunto: Conhecendo o dicionário. SALA: Fazer atividade no livro páginas 50 e 51. CASA: Leia a página 50, pesquise os significados das palavras: montanha, triângulo e escada e depois escreva no caderno.</p> <p>Assunto: Arredondamentos e estimativas. SALA: Fazer atividade no livro página 58. CASA: Fazer atividade da ficha 33 (adesivo 5) no caderno.</p>
<p>18/03 Quinta-feira</p>	<p>Componente curricular: Língua Portuguesa</p> <p>História</p> <p>Matemática</p> <p>Ciências</p>	<p>Assunto: Dicionário: Ordem pela primeira letra. SALA: Fazer atividade no caderno. CASA: Realização de atividade xerocopiada.</p> <p>Assunto: Presente, passado e futuro. SALA: Fazer atividade no livro páginas 30 e 31. CASA: Fazer leitura no livro página 32 e 33.</p> <p>Assunto: Cálculo mental. SALA: Realização de atividade no livro página 59. CASA: Realização de atividade xerocopiada.</p> <p>Assunto: Seres vivos e não vivos. SALA: Fazer atividade no livro página 32. CASA: Fazer atividade no livro página 33.</p>

19 /03 Sexta-feira	Componente curricular: Língua Portuguesa	Assunto: Práticas ortográficas com as letras C e G. SALA: Fazer atividade no livro, página 52. CASA: Realização de atividade xerocopiada.
	Matemática	Assunto: Decomposição de números. SALA: Fazer atividade no livro página 60. CASA: Fazer atividade xerocopiada.
	Geografia	Assunto: Localização orientação e representação espacial. SALA: Fazer atividade no livro página 38. CASA: Fazer atividade no livro página 39.
	Ciências	Assunto: Animais que mamam (Mamíferos) SALA: Fazer atividade xerocopiada. CASA: Fazer atividade xerocopiada.

Observações:

1. Em todas as atividades realizadas, coloque a data. Isso facilitará as nossas correções.
2. Imprimir as atividades (em anexo).



ATIVIDADE DE MATEMÁTICA (SALA: 16/03)

- Observe a sequência dos números naturais.

0 - 1 - 2 - 3 - 4 - 5 - 6 - 7 - 8 - 9 - 10 - 11 - 12
13 - 14 - 15 - 16 - 17 - 18 - 19 - 20 - 21 - 22
23 - 24 - 25 - 26 - 27...


O 3 vem antes do 8,
então, 3 é **menor** que 8.

$$3 < 8$$

22 vem depois do 16,
então 22 é **maior** que 16.

$$22 > 16$$

Agora é a sua vez! Vamos colocar os símbolos $>$ ou $<$:



CRECHE ESCOLA SEMENTINHA

SÃO LUÍS, _____ DE _____ DE 2021

2º ANO - ENSINO FUNDAMENTAL I


PROFESSORAS: MILENA, NELCELINE E VANESSA

NOME: _____



ATIVIDADE DE MATEMÁTICA (CASA 16/03)

1º) Observe os números do pote e responda as questões.



- a) Qual o maior número de 2 algarismos? _____
- b) Qual o menor número de 2 algarismos? _____
- c) Qual o maior número de 3 algarismos? _____
- d) Qual o menor número de 3 algarismos? _____

2º) Pinte de verde o maior número.

3º) Pinte de amarelo o menor número.

CRECHE ESCOLA SEMENTINHA

SÃO LUÍS, _____ DE _____ DE 2021

2º ANO - ENSINO FUNDAMENTAL I

PROFESSORAS: MILENA, NELCELINE E VANESSA

NOME: _____



ATIVIDADE DE MATEMÁTICA (CASA: 18/03)

1º) Os lápis foram amarrados em grupos de 10 unidades (uma dezena) e restaram alguns lápis. Observe os desenhos e complete as tabelas.



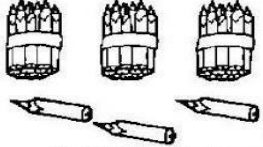
D	U

GRUPOS DE 10	QUANTOS SOBARAM?



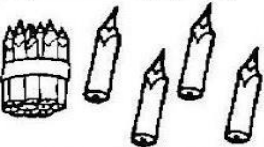
D	U

GRUPOS DE 10	QUANTOS SOBARAM?




D	U

GRUPOS DE 10	QUANTOS SOBARAM?



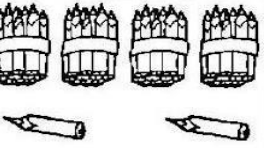
D	U

GRUPOS DE 10	QUANTOS SOBARAM?



D	U

GRUPOS DE 10	QUANTOS SOBARAM?



D	U

GRUPOS DE 10	QUANTOS SOBARAM?

CRECHE ESCOLA SEMENTINHA

SÃO LUÍS, _____ DE _____ DE 2021

2º ANO - ENSINO FUNDAMENTAL I

PROFESSORAS: MILENA, NELCELINE E VANESSA

NOME: _____



ATIVIDADE DE LÍNGUA PORTUGUESA (CASA: 18/03)

Um dos principais requisitos para utilização correta do dicionário é o domínio da ordem alfabética, para encontrar a palavra desejada em um dicionário, inicialmente é necessário o significado, depois, deve realizar o mesmo processo com as duas letras seguintes, por último deve-se analisar o contexto ao qual a palavra se encaixa e achar o sinônimo apropriado.

1º) Coloque as palavras abaixo em sua ordem correta:



A casinha, caseiro, casebre, casarão, casa, casinhola.

Cubo, cozinha, cinema, chalé, celeiro, casa, clube.

Peixe, pobre, pudim, piano, papel.

Gaúcho, gaveta, gatilho, gado, gato

CRECHE ESCOLA SEMENTINHA

SÃO LUÍS, _____ DE _____ DE 2021

2º ANO - ENSINO FUNDAMENTAL I

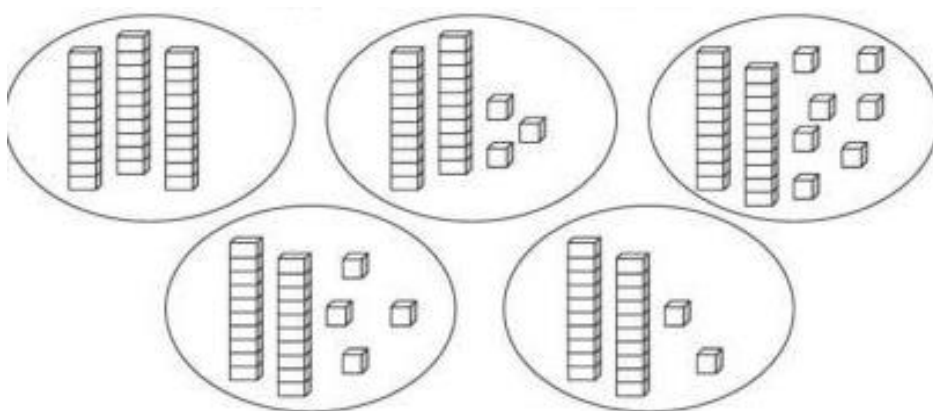
PROFESSORAS: MILENA, NELCELINE E VANESSA

NOME: _____



ATIVIDADE DE MATEMÁTICA (CASA 19/03)

1º) PINTE AS BOLHAS QUE POSSUEM MAIS DE 25 UNIDADES.



2º) PINTE AS PEÇAS DO MATERIAL DOURADO DE ACORDO COM O NÚMERO INDICADO.

<p>21</p>	<p>35</p>
<p>13</p>	<p>27</p>

CRECHE ESCOLA SEMENTINHA

SÃO LUÍS, _____ DE _____ DE 2021



2º ANO - ENSINO FUNDAMENTAL I

PROFESSORAS: MILENA, NELCELINE E VANESSA

NOME: _____

ATIVIDADE DE LÍNGUA PORTUGUESA (CASA: 19/03)

1º) Complete as palavras com C e G e encontre-as na cruzadinha.

1	__an__uru	6	__arrossel	11	__rilo	16	pa__ote
2	__arretel	7	__aroto	12	__arro	17	__aderno
3	__ravo	8	__ostoso	13	barri__a	18	__oiaba
4	__ravata	9	__aju	14	barri__a	19	es__ova
5	__aiola	10	__orro	15	__aivota	20	__aroa

CRECHE ESCOLA SEMENTINHA

SÃO LUÍS, _____ DE _____ DE 2021

2º ANO - ENSINO FUNDAMENTAL I


PROFESSORAS: MILENA, NELCELINE E VANESSA

NOME: _____



ATIVIDADE DE CIÊNCIAS (SALA:19/02)

“Os mamíferos são animais que mamam quando pequenos, respiram pelos pulmões e têm o corpo coberto de pelos”. Ligue os nomes dos animais ao desenho correspondente.



MACACO

LEÃO

PORCO

VACA

GATO

CACHORRO

COM QUE LETRA COMEÇA O NOME DESTES ANIMAIS?














ATIVIDADE DE CIÊNCIAS (CASA:19/02)

1º) Encontre no caça-palavras os nomes dos mamíferos e escreva-os embaixo de sua figura.



R H T R N O O H K S D E P C T G
L O N Ç A N F I C Ç R E N P Q A D
A K A G R G O G O P P V A F U T T S L
M A C A C O G O M P T Y Y A S L
A E D R T C A P I N O O T M L R R
C R R F C V I O H U K L P A F F
A R H G B D P T B Y X D E N A T
M G N U T R O A N Ç P K A S E D F U
E A G F Y T R M Ç P K A S O A F N
L T T R Y A C O K P E O A F N
O O G H D I O R R P I H A R E O P
A F Y T U V V X F S Z E H D A P
O E M I R O O T P C A V A L O U
D C O E L H O T A G O W Q O P
O N G H U T K A S L O F T Y X